


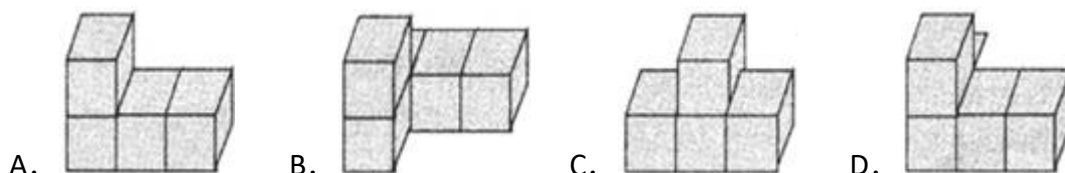
2014-2015 学年广东省深圳市珠光小学三年级（上）期末数学试 卷

一、选择题（本题共有 16 道小题，在每小题给出的答案中，只有一个符合题目要求）

1. (3 分) $492 - 268 = (\quad)$

A. 230 B. 224 C. 234 D. 214

2. (3 分) 请仔细观察下面的立体图形，从正面看不是  的是图形 ()



3. (3 分) 将四边形的一个角剪掉，不可能剩下 () 个角.

A. 2 B. 3 C. 4 D. 5

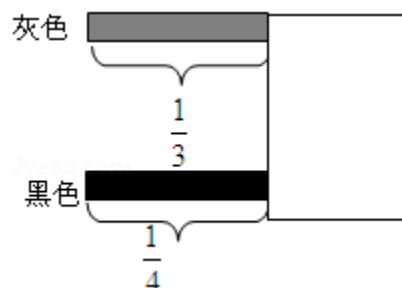
4. (3 分) $\square + \bigcirc = 12$, 在 \square 和 \bigcirc 中填数, 使它们的和为 12, 共有 () 种填法.

A. 5 B. 10 C. 9 D. 无数种

5. (3 分) $1125 - 125 \times 8 = (\quad)$

A. 8000 B. 125 C. 925 D. 800


6. (3 分) 图中有两张纸条，一边被一张纸压住了，你认为 () 一条纸条长一些.



A. 灰色纸条长 B. 黑色纸条长 C. 一样长 D. 无法比较

7. (3 分) 仔细观察下列四个图形，和其他图形不一样的是 ()

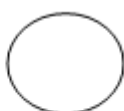




①



②



③



④

- A. 图① B. 图② C. 图③ D. 图④

8. (3分) 下图是由 200 克花生米组成, 请你推算一粒花生米大约有 () 克.



- A. 0.5 B. 1 C. 1.5 D. 2

9. (3分) 下面的 3 个图形都是由相同的小棒拼成, 根据前 3 个图形的排列规律, 第 5 个图形由 () 根小棒拼成.



- A. 20 B. 18 C. 16 D. 14

10. (3分) 把一根粗细均匀的木料锯成 6 段, 每锯一次需要 180 秒, 一共需要 () 分钟.

- A. 18 B. 104 C. 90 D. 15

11. (3分) 池塘里的睡莲每天以 2 倍的速度增长, 经过 8 天就可以长满整个池塘, 第 () 天长满半个池塘.

- A. 4 B. 7 C. 5 D. 6

12. (3分) 淘气练了 30 天的字, 前 25 天, 每天练 4 长纸; 最后几天里, 他每天多练了 1 张纸, 淘气 30 天一共练了 () 张纸.

- A. 115 B. 125 C. 150 D. 220

13. (3分) 根据下面两幅图, 请你判断出 3 个●的重量等于 () 个○的重量.



- A. 18 B. 15 C. 12 D. 9

14. (3分) 三年级 4 位同学参加了 60 米跑步比赛, 他们的成绩分别是: 王豪 9.1 秒, 张刚 9.12 秒, 王杨 29.5 秒, 高勤 10.15 秒, () 跑的最快.

- A. 高勤 B. 王豪 C. 张刚 D. 王杨



15. (3 分) 同学们去春游, 早晨 8:30 出发, 下午 4:30 回来, 共用了 () 时.

A. 4 B. 8 C. 12 D. 16

16. (3 分) 笑笑用了同样长的两根铁丝围成了凹和凸两个字, 比较它们的面积, 那么 ()



A. 凹比凸大 B. 凸比凹大 C. 一样大 D. 无法比较

二、填空题

17. (3 分) 计算: $364+1636=$ _____.

18. (3 分) 计算: $25 \times 28=$ _____.

19. (3 分) 做一个边长为 6 厘米的五角星花边, 需要准备_____厘米的彩带.



20. (3 分) $\square \div 9 = \square \dots \square$ 余数最大是_____.

21. (3 分) $\square 37 < 276 \div 2$, \square 只能填_____.

22. (3 分) 下列图片按照图形表示的意思来分, 可以分为_____类.



23. (3 分) 小明在运动会跑步项目中表现突出, 速度超快, 夺得第一名的好成绩.

深圳思问教育科技有限公司

地址: 福田区红荔路1068号荔湖花苑2楼右侧

地址: 福田区景田北街七街公馆7层A11号

服务电话: 0755—82574615



扫一扫了解更多资讯

微信公众号关注: 深圳升学加油站

家长交流QQ群: 431076037

思问教育官网: www.szsiwen.com

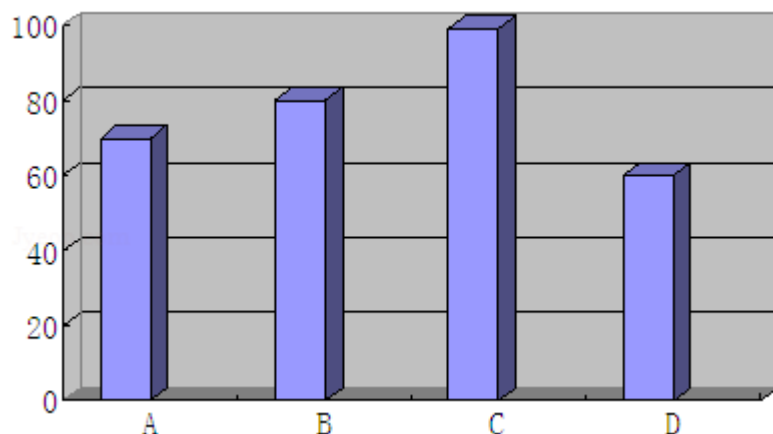
绩。请问要想知道他跑步的速度，需要知道哪两条信息？请填在下面的横线上。

信息一：_____

信息二：_____。

三、解答题

24. 观察如图，回答问题：



(1) 上图哪个字母表示的数量最多？哪个最少？

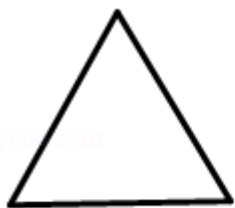
(2) 上图可以表示下面哪种情况的统计？为什么？

①三（1）班的四个最优秀学生的数学成绩


②4个学生的英语成绩

③参加社团的人数。

25. 观察下面图形，回答下列问题。



图一：等边三角形



图二：正方形

(1) 从数学的角度描述图形一的两个特征。

第一：_____

第二：_____

(2) 从数学角度描述图形一与图形二的一个相同特征。

相同特征：_____



(3) 从数学角度描述图形一与图形二的两个不同特征

第一个不同特征: _____

第二个不同特征: _____.

26. 王老伯“三天打鱼，二天晒网”.

(1) 他 2004 年全年打鱼多少天?

(2) 他 2004 年全年晒网多少天?



2014-2015 学年广东省深圳市珠光小学三年级（上）期末 数学试卷

参考答案

一、选择题（本题共有 16 道小题，在每小题给出的答案中，只有一个符合题目要求）

1. B; 2. C; 3. A; 4. D; 5. B; 6. B; 7. A; 8. B; 9. C; 10. D; 11. B;
12. B; 13. A; 14. B; 15. B; 16. D;

二、填空题

17. 2000; 18. 700; 19. 60; 20. 8; 21. 1; 22. 2; 23. 跑的米数; 所用的时间;

三、解答题

24. _____; 25. 等边三角形三条边都相等，三个角都是 60 度; 正方形的 4 条边都相等，4 个角都是 90 度; ①都有相等的边②都是轴对称图形③对称轴都交于一点.; 边数不同; 内角和不同; 26. _____;

