

2013-2014 学年广东省深圳市宝安区沙溪小学三年级（上）期末

数学模拟试卷

一、我会填空：（20 分，每空 1 分）

- （2 分）180 的 5 倍是____，____的 5 倍是 180.
- （2 分）有两个长方形，长都是 4 厘米，宽都是 2 厘米，如果把它们拼成一个正方形，这个正方形的边长是____厘米，周长是____厘米.
- （2 分） $90000\text{kg}=\text{_____t}$ ，____克=3 千克.
- （3 分）在横线里填上合适的单位.
小红到食杂店买回白糖 1000____；
小丽的体重是 29____.
- （1 分）边长为____米的正方形周长是 32 米.
- （1 分）要将 2 件上衣和 3 件裙子搭配成 1 套衣服，有____种不同的搭配方法.
- （6 分）在横线里填上“>”、“<”或“=”.
 $69 \div 3$ ____ $96 \div 3$ 600kg ____ 6t $0 \div 3$ ____ 0×7
 18×4 ____ 14×8 $180 \div 3$ ____ $420 \div 7$ $603 \div 3$ ____ $846 \div 6$.
- （3 分）判断下面的商是几位数.
 $582 \div 4$ ____位数 $587 \div 8$ ____位数 $935 \div 3$ ____位数.

二、当回“法官”仔细判一判（对的在括号里打“√”，错的打“×”）

- （1 分）0 乘任何数都得 0，0 除以任何数都得 0. ____（判断对错）
- （1 分）三位数除以一位数，商一定是两位数. ____（判断对错）
- （1 分）两个正方形可以拼成一个长方形____（判断对错）.
- （1 分） $612 \div 6=12$ ____（判断对错）.
- （1 分）两个长方形能够拼成一个正方形. ____（判断对错）.

三、选择题（10 分）

- （2 分）6 个苹果大约重（ ）
A. 1 千克 B. 1 克 C. 50 克 D. 100 千克



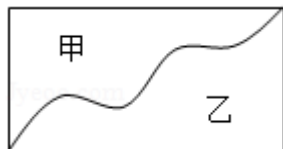
15. (2 分) 图形按▲▲●●■▲▲●●■...的顺序排列下去, 从左往右数, 第 32 个图形是 ()

A. ▲ B. ● C. ■ D. 无法判断

16. (2 分) 甲数 \div □=5...6, 那么甲数最小是 ()

A. 32 B. 41 C. 40 D. 35

17. (2 分) 如图甲、乙两部分图形的周长相比较的结果是 ()



A. 甲短乙长 B. 甲长乙短 C. 一样长 D. 无法判断

18. (2 分) 一个长方形的长是 6 分米, 宽是长的一半, 它的周长是 ()

A. 180 厘米 B. 9 分米 C. 36 分米 D. 72 厘米

四、我来算一算

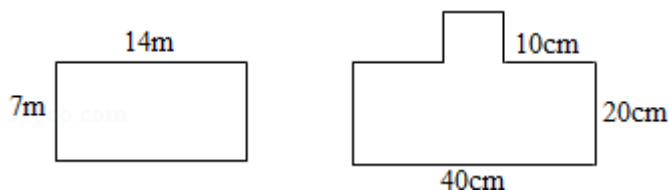
19. (8 分)

直接写得数

$$606 \div 2 = \quad 6 - 5 \div 5 = \quad 810 \div 9 = \quad 0 \div 15 =$$

$$840 \div 4 = \quad 186 \div 6 = \quad 0 \times 53 = \quad 351 + 57 =$$

20. (4 分) 计算下图的周长



21. (12 分) 用竖式计算下面各题. (带★要验算, 带★的每题 4 分)

(1) $480 \div 4$

(2) 708×4

★ (3) $654 \div 6$

★ (4) $582 \div 7$

22. (12 分) 用递等式计算下面各题

$$819 \div (3 \times 3)$$




$$168 \times 5 \div 6$$

$$(345 + 15) \div 9$$

$$735 \div 7 \div 3.$$

五、画一画（4分）

23.（4分）在下面的方格中画出一个宽是5厘米，周长是24厘米的长方形。（每个小方格的边长为1厘米）




六、实际应用（共25分，每小题5分）

24.（5分）一件上衣186元，是一条裤子的3倍，买2套这样的衣服要多少钱？

25.（5分）一个长方形的花坛宽14米，长是宽的2倍。如果小明沿着花坛走3圈，小明一共走了多少米？

26.（5分）学校植物园是一个长18米、宽9米的长方形，其中有一面靠墙，在植物园的四周围上护栏，护栏长多少米？



27.（5分）李老师用了981元买了3箱羽毛球拍，每箱里面有3副羽毛球，每副羽毛球拍的价格是多少元？

28.（5分）淘气的小明不小心将购物发票弄脏了，你能帮他算出排球的单价吗？

物品名称	单价	数量	总价
足球	57元	1个	297元
排球		5个	



深圳思问教育科技有限公司

地址：福田区红荔路1068号荔湖花苑2楼右侧
地址：福田区景田北街七街公馆7层A11号
服务电话：0755——82574615



扫一扫了解更多资讯

微信公众号关注：深圳升学加油站
家长交流QQ群：431076037
思问教育官网：www.szsiwen.com

2013-2014 学年广东省深圳市宝安区沙溪小学三年级（上） 期末数学模拟试卷

参考答案

一、我会填空：（20 分，每空 1 分）

1. 900；36； 2. 4；16； 3. 90；3000； 4. 克；千克； 5. 8； 6. 6； 7. ≤；≤；
≡；≤；≡；≥； 8. 三；两；三；

二、当回“法官”仔细判一判（对的在括号里打“√”，错的打“×”）

9. ×； 10. 错误； 11. √； 12. ×； 13. ×；

三、选择题（10 分）

14. A； 15. A； 16. B； 17. C； 18. A；

四、我来算一算

19. _____； 20. _____； 21. _____； 22. _____；

五、画一画（4 分）

23. _____；

六、实际应用（共 25 分，每小题 5 分）

24. _____； 25. _____； 26. _____； 27. _____； 28. _____；

